

**Международный конкурс
по окружающему миру
«Экологическая азбука - 2024»
(для дошкольников 5-7 лет)**

Ответы

Ответ должен быть представлен строго в виде **ОДНОГО СЛОВА**, **БУКВЫ** или **ЧИСЛА** (согласно условию задания) без кавычек, точек, орфографических ошибок. Некоторые вопросы содержат подсказку – буквы ответа. Букву «ё» можно писать как «е» или как «е». Неверно записанные ответы не учитываются.

Задание №1

Некоторые животные живут в лесу, некоторые – в воде, некоторые – в пустыне. Кто из этих животных живёт под землёй и редко показывается на поверхности?

1. Верблюд
2. Крот
3. Морж

В ответе укажи только номер выбранного варианта (1 или 2 или 3)

Ответ

2
Крот

Задание №2

Никита принёс Насте набор открыток с изображением птиц. Настя разглядывала открытки и увидела, что на одной из них изображена не птица. На какой?



В ответе укажи только номер выбранного варианта (1 или 2 или 3 или 4)

Ответ

3
Бабочка

Задание №3

Какой из этих цветов не входит в радугу?

1. Оранжевый
2. Жёлтый
3. Зелёный
4. Чёрный

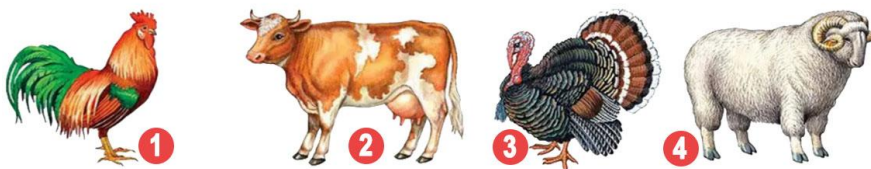
В ответе укажи только номер выбранного варианта (1 или 2 или 3 или 4)

Ответ

4

Задание №4

Бабушка подарила Насте красивые варежки. Из шерсти какого из этих домашних животных можно связать такие варежки?



В ответе укажи только номер выбранного варианта (1 или 2 или 3 или 4)

Ответ

4



Задание №5

У Агнии Барто есть строки:

*А когда на ветку ели
Мы лучше поглядели,*

*Оказалась, что она
Не такая, как сосна.*

Найди на картинке ель.



В ответе укажи только номер выбранного варианта (1 или 2 или 3 или 4)

Ответ**2****Задание №6**

Сказка Виталия Бианки «Как муравьишка домой спешил» – одна из любимых сказок Тани. Таня подготовила для своих друзей вопрос по ней. Попробуй и ты ответить на этот вопрос.

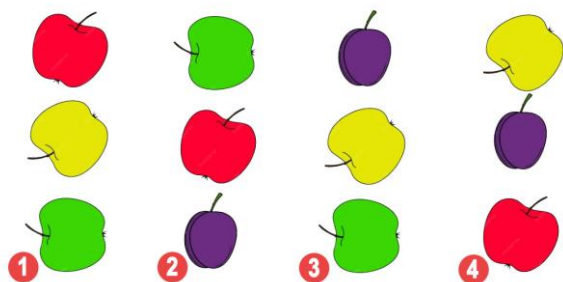
В каком из этих домиков живёт муравьишка?



В ответе укажи только номер выбранного варианта (1 или 2 или 3 или 4)

Ответ**3
Муравейник****Задание №7**

Какие три продукта окрашены в такие же цвета, как лампы в светофоре?



В ответе укажи только номер выбранного варианта (1 или 2 или 3 или 4)

Ответ

Красный
Желтый
Зеленый

1**Задание №8**


В сказке Сергея Козлова «Львёнок и черепаха» Черепаха поёт весёлую песенку:

*Я на солнышке лежу,
Я на солнышко гляжу...
Всё сижу и сижу
И на солнышко гляжу.*

В этой песенке Черепаха поёт про некоторых животных Африки. Попробуй найти картинку с животным, о котором **не упоминается** в этой весёлой

Ответ**1
Медведь**

песенке.



В ответе напиши только номер выбранного варианта (1 или 2 или 3)

Задание №9

Ответ

В стихотворении Корнея Иванович Чуковского доктор Айболит лечит разных африканских животных. Кто из них на самом деле **не живёт в Африке**?



В ответе укажи только номер выбранного варианта (1 или 2 или 3 или 4)

2
Медведь

Задание №10

Ответ

«Свет наш солнышко! ты ходишь
Круглый год по небу, сводишь
Зиму с тёплой весной, ...»

В какой строчке перечислены весенние месяцы?

- 1. Сентябрь, октябрь, ноябрь
- 2. Июнь, июль, август
- 3. Март, апрель, май

В ответе укажи только номер выбранного варианта (1 или 2 или 3)

3

Задание №11

Ответ

Качая клювом и хвостом,
Будильник ходит за окном.
На лапах – шпоры, сам – с вершок,
А на макушке – гребешок.
Живёт будильник во дворе,
Всех будит рано на заре.

О какой птице идёт речь в стихотворении «Будильник» Михаила Пляцковского?

— е — — —

В ответе запиши название птицы



Петух

Задание №12

Ответ

Валя заметила, что предметы имеют разную форму. Ей стало интересно, какую форму имеет Земля? Выбери фигуру, похожую на Землю.



В ответе укажи только номер выбранного варианта (1 или 2 или 3 или 4)

3

Задание №13**Ответ**

Живая и неживая природа совместно образуют наш мир как единое целое. Живая природа – это всё, что имеет возможность расти, дышать, питаться и развиваться.

Определи, какую картинку можно отнести к неживой природе.

Камень

2

**Животные****Человек**

В ответе напиши только номер выбранного варианта (1 или 2 или 3)

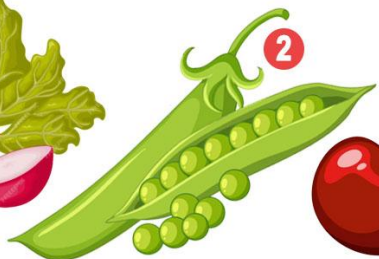
1
Камень

Задание №14**Ответ**

В сказке Ганса Христина Андерсена «Принцесса на горошине» старая королева с помощью горошины определила, что принцесса настоящая. **На какой картинке изображён горох?**



1



2



3

В ответе укажи только номер выбранного варианта (1 или 2 или 3)

2

Оценка ответов на вопросы конкурса:

- за каждый правильный ответ на задания с 1 по 12 – 7 баллов
- за каждый правильный ответ на задания с 13 по 14 – 8 баллов

Уважаемые ребята, родители и координаторы!

Мы будем очень благодарны Вам за оставленный отзыв о конкурсе.

Нам очень важно знать ваше мнение о конкурсных заданиях. Что нового вы узнали, участвуя в конкурсе? Какие задания показались лёгкими? А какие самыми сложными? Что вам не понравилось? Хотели бы вы ещё участвовать в подобных конкурсах?

Ждём все Ваши предложения, пожелания и замечания на наши электронные адреса: unikum.konkurs@yandex.ru и mir-konkursov2008@yandex.ru