




**Всероссийский математический конкурс
«Юные математики России»
(для учащихся 1 классов)**

Ответы

Ответ должен быть представлен строго в виде **ОДНОГО СЛОВА**, **БУКВЫ** или **ЧИСЛА** (согласно условию задания) без кавычек, точек, орфографических ошибок. Неверно записанные ответы не учитываются.

| Задание №1 | | Ответ |
|--|---|--|
| У Светы 4 пары варежек. Сколько варежек у Светы на правую руку? <i>В ответе запиши число варежек на правую руку</i> | | 4 |
| Задание №2 | | Ответ |
| Какая цифра спряталась за звездочкой? <i>В ответе запиши полученное число</i> | $2 + \star + 2 = 7$ $\star = ?$ | 3 |
| Задание №3 | | Ответ |
| Возле домика бабушки росло 7 ёлочек. Она посадила ещё 2 дуба и 5 ёлочек. <i>Сколько всего ёлочек стало возле дома бабушки?</i> | | 12 |
| Задание №4 | | Ответ |
| В зонтике 9 спиц, как на рисунке. Между каждыми двумя спицами Вася наклеил по одной картинке. Сколько картинок он наклеит на весь зонт? <i>В ответе запиши число картинок на зонтике</i> |  | 9 |
| Задание №5 | | Ответ |
| Над квартирой Тани 4 этажа, а под квартирой Тани 3 этажа. Сколько этажей в Танином подъезде? <i>В ответе запиши число этажей</i> | | 8 <i>Решение:</i> не забываем добавить Танин этаж $4 + 1 + 3 = 8$  |
| Задание №6 | | Ответ |
| Маша разделила шоколадку на 6 равных кусочков. Половину она оставила себе, а 3 кусочка отдала Даше. Кому досталось больше шоколадки? 1. Маше 2. Даше 3. Одинаково <i>В ответе укажи только номер выбранного варианта (1 или 2 или 3)</i> | | 3 Одинаково |
| Задание №7 | | Ответ |
| Сколько кругов надо дорисовать, чтобы их стало столько же, сколько треугольников на картинке? <i>Запиши в ответе число кругов, которые нужно дорисовать</i> |  | 2 |
| Задание №8 | | Ответ |
| Бабушка угостила внуков блинами. Всего она испекла для них 8 блинов. Два внука съели по 3 блина. А остальные – по одному. Сколько внуков у бабушки? <i>В ответе запиши число внуков</i> | | 4 |

| Задание №9 | | Ответ |
|---|--|--|
| <p>Ребята, посмотрите на картинку. Одно яблоко весит как 2 сливы, а одна груша весит как 3 сливы. Что весит больше – одно яблоко или одна груша?</p> <p>1. яблоко 2. груша 3. одинаково</p> <p><i>В ответе укажи только номер выбранного варианта (1 или 2 или 3)</i></p> |  | <p style="text-align: center;">2 груша</p> |
| Задание №10 | | Ответ |
| <p>Света рисовала ёлочки. Так получилось, что ёлочек на рисунке больше, чем крыльев у 3 синичек, но меньше, чем лап у 2 собачек.</p> <p><i>Сколько ёлочек нарисовала Света?</i></p> | | <p style="text-align: center;">7</p> <p><i>Решение: Крыльев у 3 синичек = 6 Лап у 2 собак = 8 Значит, ёлочек на рисунке 7</i></p> |
| Задание №11 | | Ответ |
| <p>Определи, в каком порядке располагаются картинки, и продолжи ряд.</p>  <p>Какая картинка окажется на месте знака вопроса.</p> <p><i>В ответе укажи только номер выбранного варианта (1 или 2 или 3)</i></p> |  | <p style="text-align: center;">3 Робот</p> |
| Задание №12 | | Ответ |
| <p>Мама купила разноцветные машинки и разделила их поровну между близнецами Мишей и Гришей. Мише достались машинки трёх разных цветов, каждого цвета по 2 штуки. Сколько всего машинок купила мама?</p> <p><i>В ответе запиши общее число машинок</i></p> | | <p style="text-align: center;">12</p> <p><i>Решение: У Миши 2+2+2=6 машинок. Значит, и у Гриши 6 машинок. Всего 12 машинок.</i></p> |
| Задание №13 | | Ответ |
| <p>Из трёх кубиков Вася построил башню. Жёлтый кубик он поставил выше синего и ниже красного. <i>Какой кубик Вася поставил выше всех?</i></p> <p>1. Жёлтый 2. Синий 3. Красный</p> <p><i>В ответе укажи только номер выбранного варианта (1 или 2 или 3)</i></p> |  | <p style="text-align: center;">3 Красный</p> |

Оценка ответов на вопросы конкурса:

- за каждый правильный ответ на задания с 1 по 4 – 7 баллов
- за каждый правильный ответ на задания с 5 по 13 – 8 баллов

Уважаемые ребята, родители и координаторы!

Мы будем очень благодарны Вам за оставленный отзыв о конкурсе.

Нам очень важно знать ваше мнение о конкурсных заданиях. Что нового вы узнали, участвуя в конкурсе? Какие задания показались лёгкими? А какие самыми сложными? Что вам не понравилось? Хотели бы вы ещё участвовать в подобных конкурсах?

Ждём все Ваши предложения, пожелания и замечания на наши электронные адреса: unikum.konkurs@yandex.ru и mir-konkursov2008@yandex.ru