







II Международный интеллектуальный турнир

«Я открываю Мир логики»



(для учащихся 1-2 классов)

Ответы

Ответ должен быть представлен строго в виде **ОДНОГО ЧИСЛА** или **СЛОВА** (согласно условию задания) без кавычек, точек и других дополнительных символов. Неверно записанные ответы не учитываются.

Задание №1		Ответ
<p>Дедушка, бабушка и внучка ждали поезд 3 часа. Сколько часов ждал поезд каждый из них? <i>В ответе запиши время ожидания поезда</i></p>		3
Задание №2		Ответ
<p>Какой снеговик получится из всех деталей на картинке справа?</p>  <p><i>В ответе укажи только номер выбранного варианта (1 или 2 или 3)</i></p>		1
Задание №3		Ответ
<p>Винни-Пух толще Кролика, а Пятачок стройнее Кролика. Двое вылезли из норы, а один застрял. Кто застрял?</p> <ol style="list-style-type: none"> 1. Кролик 2. Винни-Пух 3. Пятачок <p><i>В ответе укажи только номер выбранного варианта (1 или 2 или 3)</i></p>		2 <i>Винни-Пух</i>
Задание №4		Ответ
<p>Продолжи ряд.</p>  <p>Кто из зверят должен быть следующим в этом ряду?</p>  <p><i>В ответе укажи только номер выбранного варианта (1 или 2)</i></p>		2
Задание №5		Ответ
<p>Вася, Петя и Гриша нарисовали геометрические фигуры: круг, треугольник и квадрат. У фигуры, которую нарисовал Вася, углов больше, чем у фигуры, которую нарисовал Петя. Гриша нарисовал фигуру без углов. Какую фигуру нарисовал Петя?</p> <ol style="list-style-type: none"> 1. Квадрат 2. Круг 3. Треугольник <p><i>В ответе укажи только номер выбранного варианта (1 или 2 или 3)</i></p>		3 <i>треугольник</i> <i>Решение:</i> Гриша нарисовал круг, Вася – квадрат, Петя - треугольник

Задание №6		Ответ
<p>Маша, Даша и Вика любят ягоды. Две девочки любят клубнику, а одна – малину. Маша и Вика любят разную ягоду. Даша и Вика тоже любят разную ягоду. Кто из девочек любит малину?</p> <p>1. Маша 2. Даша 3. Вика</p> <p><i>В ответе укажи только номер выбранного варианта (1 или 2 или 3)</i></p>		<p>3 Вика</p>
Задание №7		Ответ
<p>Решите sudoku на картинке справа. Какую картинку надо вставить вместо знака вопроса, чтобы в каждой строке и в каждом столбце изображения не повторялись?</p> <div data-bbox="347 741 600 853" style="text-align: center;"> </div> <p><i>В ответе укажи только номер выбранного варианта (1 или 2 или 3)</i></p>		<p>2 цветок</p>
Задание №8		Ответ
<p>Для того, чтобы перебраться через ручей, Лягушке требуется 4 прыжка, а Кузнечику – 6. У кого из них прыжки длиннее?</p> <p>1. У Лягушки 2. У Кузнечика</p> <p><i>В ответе укажи только номер выбранного варианта (1 или 2)</i></p>		<p>1 У лягушки</p>
Задание №9		Ответ
<p>В какой клетке окажется смайлик, если его передвинуть на 2 клетки вправо?</p> <div data-bbox="204 1429 743 1514" style="text-align: center;"> </div> <p><i>В ответе укажи только номер правильной клетки (1 или 2 или 3 или 4 или 5 или 6)</i></p>		<p>5</p>
Задание №10		Ответ
<p>Зайчата собрали 11 красивых осенних листочков и разложили их на столе. Листья строго чередуются по цвету – зелёный, красный, жёлтый. Какого цвета будет <u>последний</u> 11-ый листок, если первый листочек зелёного цвета?</p> <p><i>В ответе укажи только номер выбранного варианта (1 или 2 или 3)</i></p>		<p>2 красный</p>
Задание №11		Ответ
<p>Маша наблюдала за птицами. На ветке дерева сидели 5 сорок и 3 воробья. Начался дождик, и 6 птичек улетели. Была ли среди улетевших птиц хоть</p>		<p>1 да</p>

<p>одна сорока? 1. да 2. нет <i>В ответе укажите только номер выбранного варианта (1 или 2)</i></p>		
Задание №12		Ответ
<p>Лисёнок пришел в гости к своему другу – одному из героев русской народной сказки «Теремок». На картинке его друг находится ниже лисы и левее медведя. Кто друг Лисёнка? 1. Мышонок 2. Зайчонок 3. Волчонок 4. Лягушонок <i>В ответе укажи только номер выбранного варианта (1 или 2 или 3 или 4)</i></p>		<p>2 Зайчонок</p>
Задание №13		Ответ
<p>Вася приехал на дачу к бабушке в понедельник, а уехал в пятницу. Каждую ночь тайком от бабушки Вася ел конфеты: в первую ночь одну, а каждую следующую ночь – на 1 конфету больше, чем в предыдущую. Сколько конфет съел Вася ночами, пока был на даче? <i>В ответе запиши общее число съеденных конфет</i></p>		<p style="text-align: center;">10</p> <p><i>С понедельника по пятницу 5 дней, между ними 4 ночи. В первую ночь Вася съел одну конфету, во вторую – 2, в третью – 3, в четвертую – 4. Итого $1+2+3+4 = 10$ конфет.</i></p>
Задание №14		Ответ
<p>Разложи все фрукты на тарелки так, чтобы цвет фрукта НЕ совпадал с цветами тарелок. Какой фрукт окажется в красной тарелке?  1. лимон 2. яблоко 3. слива <i>В ответе запиши номер фрукта (1 или 2 или 3)</i></p>		<p>1 лимон</p>

Оценка ответов на вопросы конкурса:

- за каждый правильный ответ на задания с 1 по 12 – 7 баллов
- за каждый правильный ответ на задания с 13 по 14 – 8 баллов

Уважаемые ребята, родители и координаторы!

Мы будем очень благодарны Вам за оставленный отзыв о конкурсе.

Нам очень важно знать ваше мнение о конкурсных заданиях. Что нового вы узнали, участвуя в конкурсе? Какие задания показались лёгкими? А какие самыми сложными? Что вам не понравилось? Хотели бы вы ещё участвовать в подобных конкурсах?

Ждём все Ваши предложения, пожелания и замечания на наши электронные адреса: unikum.konkurs@yandex.ru и mir-konkursov2008@yandex.ru