

Всероссийский математический конкурс
«Юные математики России»
(для дошкольников)

Задания

Ответ должен быть представлен строго в виде **ОДНОГО ЧИСЛА** или **СЛОВА** (согласно условию задания) без кавычек, точек и других дополнительных символов. Неверно записанные ответы не учитываются.

Задание №1

В семье лисят появилось потомство из 8 ушек. Сколько же маленьких лисят появилось на свет?

Запишите число лисят в ответе

Задание №2

У какой из божьих коровок пятнышек больше, чем 2, но меньше, чем 4?

В ответе укажи только номер выбранного варианта (1 или 2 или 3)



Задание №3


У мамы Белки семь бельчат. Все бельчата, кроме трех, умеют считать.

Сколько бельчат умеет считать?

Задание №4

Посмотрите на картинку. На ней изображены снежные комки, которые скатали Петя и Вася для постройки снеговиков. На каждого снеговика понадобится 3 комка. Сколько снеговиков сделают ребята из этих комков?

В ответе запиши число снеговиков



Задание №5

На дереве сидели 4 вороны, 3 белки, муха и стрекоза. Две птички улетели. Сколько птиц осталось на дереве?

В ответе напиши получившийся результат

Задание №6

У Маши есть 5 цветных карандашей. А у Даши 7 карандашей. В пенал помещается ровно 10 карандашей. Смогут ли девочки уложить в пенал все свои карандаши?

1. Да
2. Нет

В ответе укажите только номер выбранного варианта (1 или 2)

Задание №7

Три девочки взяли по одному мандарину в каждую руку.


Сколько всего у них мандаринов?

Задание №8

Вася хочет разобрать постройку из кубиков на рисунке 1 и собрать из этих кубиков постройку на рисунке 2. Хватит ли ему кубиков для новой постройки?

1. Да
2. Нет

В ответе укажи только номер выбранного варианта (1 или 2)



Задание №9

Бурундук наряжал ёлочку. В ёлочной гирлянде 10 лампочек жёлтого и красного цвета. Цвета лампочек чередуются. Первая лампочка – жёлтая. **Какого цвета последняя лампочка?**

1. Жёлтая лампочка
2. Красная лампочка

В ответе укажите только номер выбранного варианта (1 или 2)

Задание №10

Какая цифра спряталась за звездочкой?


$$2 + \star + 2 = 7$$
$$\star = ?$$

В ответе запиши полученное число

Задание №11

Сколько кругов надо дорисовать, чтобы их стало столько же, сколько треугольников на картинке?

Запиши в ответе число кругов, которые нужно дорисовать



Задание №12

Маша разложила игрушки в коробки. В коробке №1 лежит НЕ мишка и НЕ кукла. В коробке №3 лежит НЕ кукла.

Какая игрушка лежит в коробке №2?

1. Мишка
2. Пирамидка
3. Кукла

В ответе укажи только номер выбранного варианта (1 или 2 или 3)



Оценка ответов на вопросы конкурса:

- за каждый правильный ответ на задания с 1 по 8 – 8 баллов
- за каждый правильный ответ на задания с 9 по 12 – 9 баллов

Уважаемые ребята, родители и координаторы!

Мы будем очень благодарны Вам за оставленный отзыв о конкурсе.

Нам очень важно знать ваше мнение о конкурсных заданиях. Что нового вы узнали, участвуя в конкурсе? Какие задания показались лёгкими? А какие самыми сложными? Что вам не понравилось? Хотели бы вы ещё участвовать в подобных конкурсах?

Ждём все Ваши предложения, пожелания и замечания на наши электронные адреса: unikum.konkurs@yandex.ru и mir-konkursov2008@yandex.ru