

Международный интеллектуальный турнир

«Увлекательная логика»

(для дошкольников)



Задания

Ответ должен быть представлен строго в виде **ОДНОГО ЧИСЛА, БУКВЫ** или **СЛОВА** (согласно условию задания) без кавычек, точек, орфографических ошибок. Неверно записанные ответы не учитываются.

Задание №1

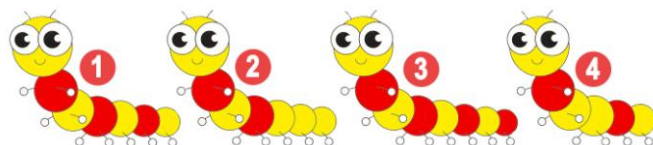
К четырём бабочкам залетела божья коровка. Сколько бабочек стало?

В ответе запиши число бабочек



Задание №2

У какой гусеницы столько же **красных** полосок, сколько их на башне?



В ответе укажи только номер выбранного варианта (1 или 2 или 3 или 4)

Задание №3

Машенька хочет выложить из палочек первую букву своего имени.

Вот так:



Сколько лишних палочек она взяла?



В ответе запиши число лишних палочек

Задание №4

Посмотри внимательно на букву и картинку около буквы. Реши ребус и получишь имя девочки.

— — — — —

В ответе запиши получившееся слово

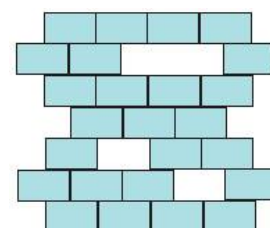


Задание №5

Сколько кирпичей хватит поросёнку Наф-Нафу, чтобы заделать все окошки внутри стены?

Все кирпичи одинакового размера.

- 1
- 2
- 3
- 4



В ответе укажи только номер выбранного варианта (1 или 2 или 3 или 4)

Задание №6


Винни-Пух приклеил на лист бумаги фигуры в таком порядке: квадрат, круг, треугольник. Какая картинка у него получилась?

В ответе укажи только номер выбранного варианта (1 или 2 или 3)



Задание №7

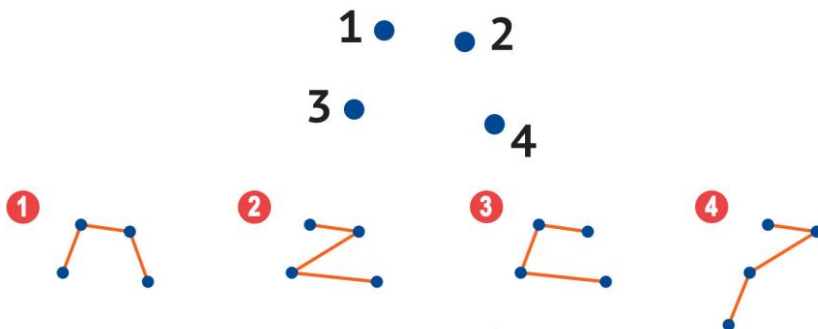
Какую фигурку Колобок встретит на тропинке последней?



В ответе укажи только номер выбранного варианта (1 или 2 или 3 или 4)

Задание №8

Что у Буратино получится, если числа на рисунке он соединит по порядку?

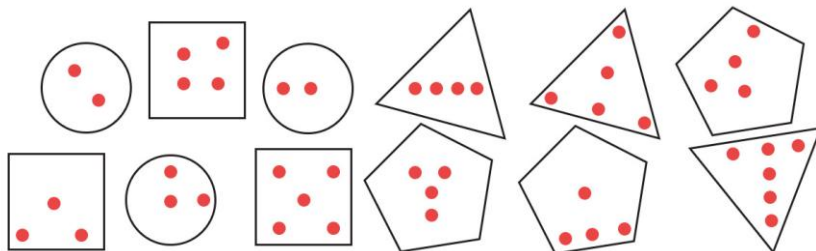


В ответе укажи только номер выбранного варианта (1 или 2 или 3 или 4)

Задание №9

Любимая цифра Буратино – 4.

Сосчитай все карточки с 4 точками. Сколько таких карточек у тебя получилось?



В ответе запиши получившийся результат

Задание №10

Продолжи заданную последовательность.



Какая картинка окажется на месте вопросительного знака?



В ответе укажи только номер выбранного варианта (1 или 2)

Задание №11

Совунья откладывала шерсть на будущее, и теперь у неё целое море клубков! Посчитай, сколько клубков она накопила, если сначала она купила 5 клубков, а потом ещё 2.



В ответе запиши получившийся результат

Задание №12

Выбери жёлтое, но не посуду.



В ответе укажи только номер выбранного варианта (1 или 2 или 3 или 4)

Задание №13

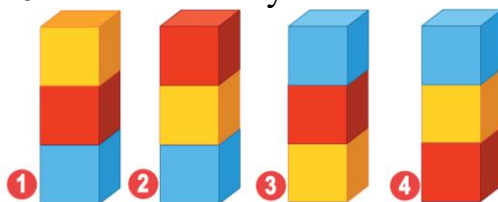
Лисенок любит кататься на лыжах и придумывать математические примеры. Какую цифру Лисенок обозначил своим изображением?



В ответе запиши цифру, спрятавшуюся под Лисенком

Задание №14

Петушок построил башню из кубиков. Сначала он положил **красный** кубик, потом **жёлтый**, а потом **синий**. Что получилось?



В ответе укажи только номер выбранного варианта (1 или 2 или 3 или 4)

Оценка ответов на вопросы конкурса:

- за каждый правильный ответ на задания с 1 по 12 – 7 баллов
- за каждый правильный ответ на задания с 13 по 14 – 8 баллов

Уважаемые ребята, родители и координаторы!

Мы будем очень благодарны Вам за оставленный отзыв о конкурсе.

Нам очень важно знать ваше мнение о конкурсных заданиях. Что нового вы узнали, участвуя в конкурсе? Какие задания показались лёгкими? А какие самыми сложными? Что вам не понравилось? Хотели бы вы ещё участвовать в подобных конкурсах?

Ждём все Ваши предложения, пожелания и замечания на наши электронные адреса: unikum.konkurs@yandex.ru и mir-konkursov2008@yandex.ru